

受験番号

--	--	--	--	--	--

フリガナ

氏 名

持ち帰り  
禁止

問 1

- (1) ① \_\_\_\_\_ ② \_\_\_\_\_ ③ \_\_\_\_\_  
④ \_\_\_\_\_ ⑤ \_\_\_\_\_ ⑥ \_\_\_\_\_  
⑦ \_\_\_\_\_ ⑧ \_\_\_\_\_ ⑨ \_\_\_\_\_  
⑩ \_\_\_\_\_

(2) (例)発達中の低気圧：[SW]    A： \_\_\_\_\_    B： \_\_\_\_\_

(3) 渡島半島付近の低気圧： \_\_\_\_\_ °C

日本の南の低気圧： \_\_\_\_\_ °C

(4) ① ①領域 C 内の雲または雲列の名称に対応する記号： \_\_\_\_\_

② \_\_\_\_\_

③ \_\_\_\_\_

③	渡	島	半	島	付	近	の	低	気	圧	に	伴	う	雲	域
	と	比	べ	、											

切り離さないでください

この部分(実線の左側)に書かれた解答は採点しません

切り離さないでください

問 2

(1) ① \_\_\_\_\_ m \_\_\_\_\_ m \_\_\_\_\_ m

② 図1の北側の前線：\_\_\_\_\_

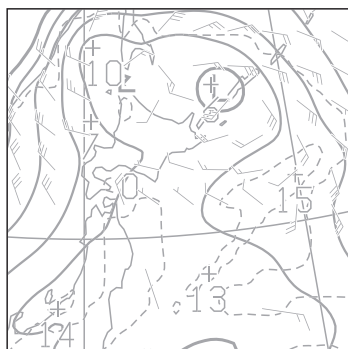
図1の南側の前線：

(2) ①

[illegible]

② m

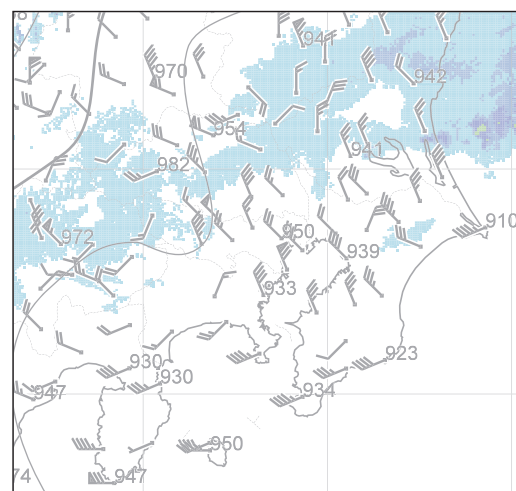
③



問 3

(1) ① の低気圧

②



(1) ③ 18 時：シアーラインは降水域 \_\_\_\_\_ 位置する。

15 時：シアーラインは降水域 \_\_\_\_\_ 位置する。

(2) ① 時刻： \_\_\_\_\_ 時 \_\_\_\_\_ 分

理由 風： \_\_\_\_\_

気温： \_\_\_\_\_

露点温度： \_\_\_\_\_

気圧： \_\_\_\_\_

② 降水 \_\_\_\_\_ 時 \_\_\_\_\_ 分 ～ \_\_\_\_\_ 時 \_\_\_\_\_ 分

降雪 \_\_\_\_\_ 時 \_\_\_\_\_ 分 ～ \_\_\_\_\_ 時 \_\_\_\_\_ 分

③ \_\_\_\_\_ 時 \_\_\_\_\_ 分 ～ \_\_\_\_\_ 時 \_\_\_\_\_ 分

④


⑤


(3) 温度移流の種類： \_\_\_\_\_

(3) 理由

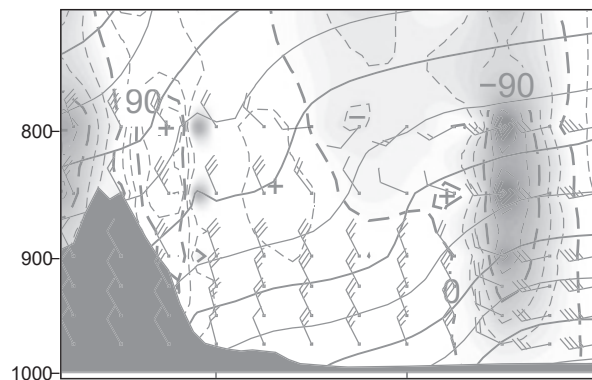

前線面の高度の時間変化に関する特徴


(4) ① 15 時： \_\_\_\_\_ °      18 時： \_\_\_\_\_ °

② A： \_\_\_\_\_ B： \_\_\_\_\_ C： \_\_\_\_\_

③


④



(5) \_\_\_\_\_

切り離さないでください

この部分(実線の左側)に書かれた解答は採点しません

切り離さないでください